

# Legosteentjes teldetective.

---

## Inhoud :

**5x A4 met elk 4 vraagkaartjes.**

**5x A4 met elk 4 antwoordkaartjes.**

**1X A4 met Legosteentjes kaartjes.**

---



**vanjufmarjan.nl**

**Je hebt 5 legosteentjes.  
De eerste en de laatste  
zijn geel. De tweede is  
groen. De rode ligt voor de  
blauwe.**

**Leg de legosteentjes in  
een rij.**



www.vanijufmarjan.nl - kaart 1

**Je hebt 6 legosteentjes in  
twee kleuren.  
Ze zijn niet groen of blauw.  
De helft is rood.  
Leg de 6 legosteentjes op  
tafel.**



www.vanijufmarjan.nl - kaart 2

**Je hebt 4 legosteentjes in  
twee verschillende kleuren.  
Het aan tal rode en groene  
is gelijk.  
Hoeveel legosteentjes heb  
je van elke kleur?**

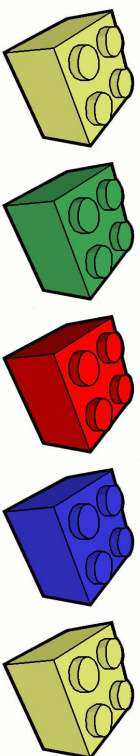


www.vanijufmarjan.nl - kaart 3

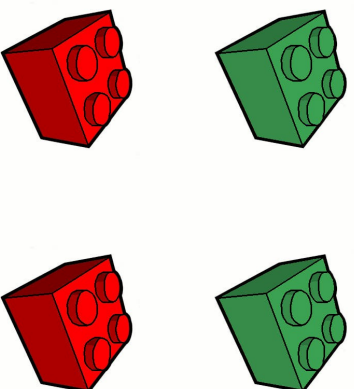
**Je hebt 7 legosteentjes in  
twee verschillende kleuren.  
3 zijn rood. Er zijn meer  
groene dan rode  
legosteentjes.  
Wat voor kleur hebben je  
steentjes en leg ze neer.**




www.vanijufmarjan.nl - kaart 4



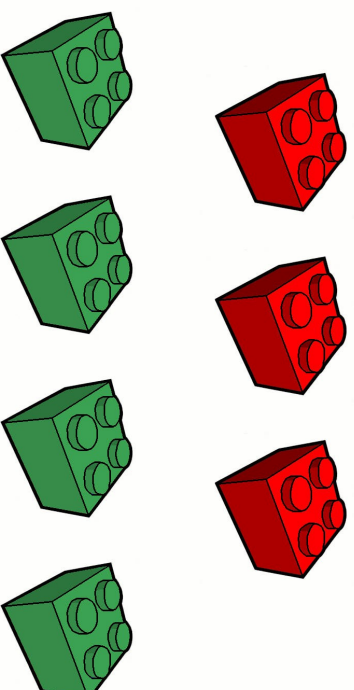
www.vanijufmarjan.nl - kaart 1



www.vanijufmarjan.nl - kaart 3




www.vanijufmarjan.nl - kaart 2



www.vanijufmarjan.nl - kaart 4

**Je hebt 8 steentjes in vier verschillende kleuren.  
Je hebt hetzelfde aantal van elke kleur.  
Welke legosteentjes heb je?**



www.vanjuufmarjan.nl - kaart 5

**Je hebt 7 legosteentjes in twee verschillende kleuren.  
Je hebt één rood legosteentje meer.  
Hoeveel rode en gele steentjes heb je?**



www.vanjuufmarjan.nl - kaart 7

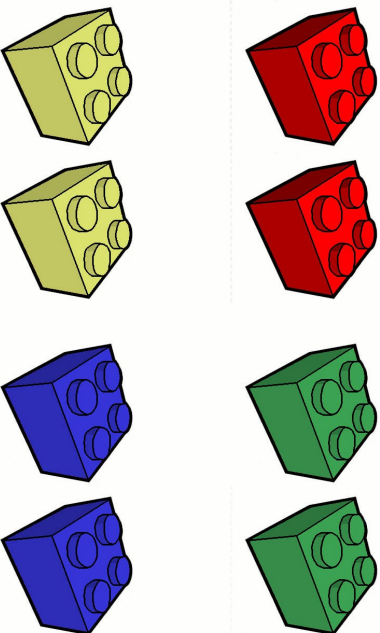
**Je hebt 10 legosteentjes.  
Er is een oneven aantal groene steentjes. Je hebt 1 gele steen en 1 rode steen.  
Het aantal blauwe steentjes is één meer dan het totaal van de groene en gele steentjes. Welke legosteentjes heb je?**




www.vanjuufmarjan.nl - kaart 6

**Je hebt 7 legosteentjes in drie kleuren. Twee zijn er geel. Het aantal blauwe steentjes is gelijk aan het aantal gele. De rest is groen.  
Welke legosteentjes heb je?**


www.vanjuufmarjan.nl - kaart 8



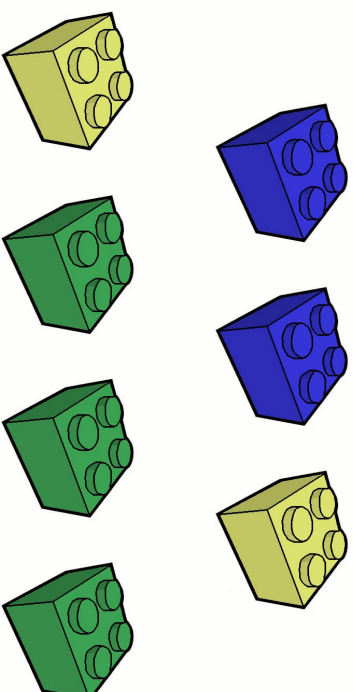
www.vanijufmarjan.nl - kaart 5



www.vanijufmarjan.nl - kaart 7



www.vanijufmarjan.nl - kaart 6



www.vanijufmarjan.nl - kaart 8

**Je hebt 6 legosteentjes.  
3 zijn er rood.  
Het aantal rode en blauwe  
is gelijk.  
Hoeveel legosteentjes heb  
je van elke kleur?**



[www.vanijufmarjan.nl](http://www.vanijufmarjan.nl) - kaart 9

**Je hebt 5 legosteentjes in  
vier verschillende kleuren.  
Het aantal rode,blauwe en  
gele steentjes is gelijk.  
Welke legosteentjes heb  
je?**



[www.vanijufmarjan.nl](http://www.vanijufmarjan.nl) - kaart 11

**Je hebt 6 legosteentjes in  
twee kleuren.  
Er zijn van de rode twee  
meer dan van de groene.  
Welke legosteentjes heb  
je?**



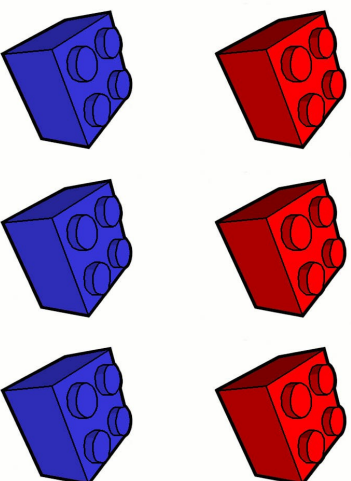
[www.vanijufmarjan.nl](http://www.vanijufmarjan.nl) - kaart 10

**Je hebt 6 legosteentjes in  
vier kleuren.  
Het aantal rode is gelijk  
aan het aantal gele.  
Er zijn minder groene  
steentjes dan gele.  
Welke kleuren hebben je  
legosteentjes?**




[www.vanijufmarjan.nl](http://www.vanijufmarjan.nl) - kaart 12

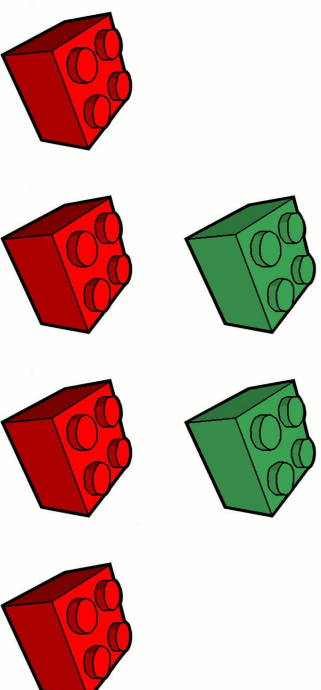





www.vanijufmarjan.nl - kaart 9



www.vanijufmarjan.nl - kaart 11



www.vanijufmarjan.nl - kaart 10



www.vanijufmarjan.nl - kaart 12

**Je hebt 8 legosteentjes. De eerste is rood. De laatste is blauw. Je hebt drie groene voor de blauwe liggen. De andere steentjes zijn geel.**  
**Leg je steentjes op de juiste volgorde.**



[www.vanijufmarjan.nl](http://www.vanijufmarjan.nl) - kaart 13

**Je hebt 10 legosteentjes in twee kleuren. Start met blauw en eindig met geel. Een blauwe steen ligt nooit naast een blauwe steen en een gele steen naast een gele steen.**  
**Leg je stenen op volgorde.**



[www.vanijufmarjan.nl](http://www.vanijufmarjan.nl) - kaart 15

**Je hebt 9 legosteentjes. De eerste, laatste en middelste zijn rood. Er liggen drie gele steentjes na de eerste. De rest van de steentjes zijn groen.**  
**Leg je steentjes op de juiste volgorde.**




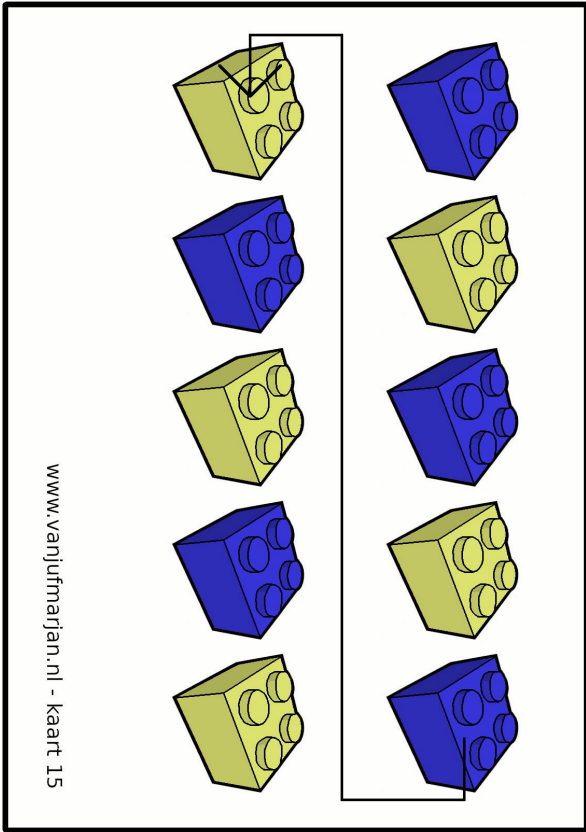
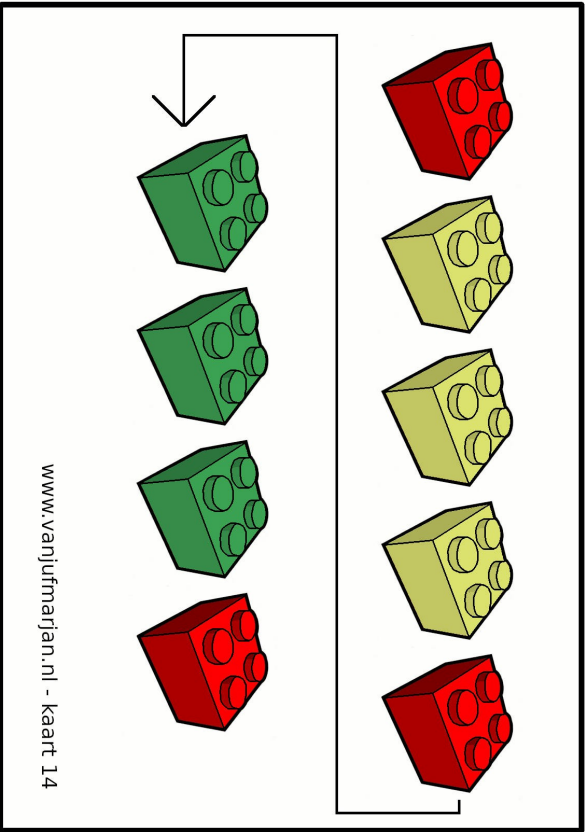
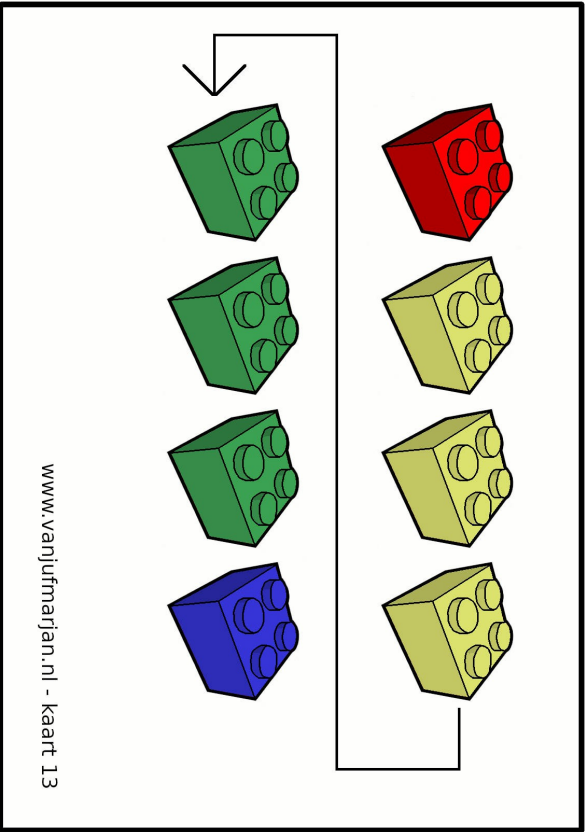
[www.vanijufmarjan.nl](http://www.vanijufmarjan.nl) - kaart 14

**Je hebt 4 legostenen. Er is er van elke kleur 1. Rood is nooit eerst of tweede. Geel is laatst. Groen is niet eerst.**  
**Leg je steentjes op de juiste volgorde.**



[www.vanijufmarjan.nl](http://www.vanijufmarjan.nl) - kaart 16





**Je hebt 7 legosteentjes in drie kleuren. Je hebt geen rode steentjes. Je hebt van groen het minste. Het aantal blauwe en gele steentjes is gelijk.**



**Welke legosteentjes heb je?**

[www.vanjuufmarjan.nl](http://www.vanjuufmarjan.nl) - kaart 17

**Je hebt 5 legosteentjes in vier kleuren. Twee zijn er rood.**

**Welke legosteentjes heb je?**



[www.vanjuufmarjan.nl](http://www.vanjuufmarjan.nl) - kaart 19

**Je hebt 12 legosteentjes. Van elke kleur heb je er evenveel.**

**Welke legosteentjes heb je?**




[www.vanjuufmarjan.nl](http://www.vanjuufmarjan.nl) - kaart 18

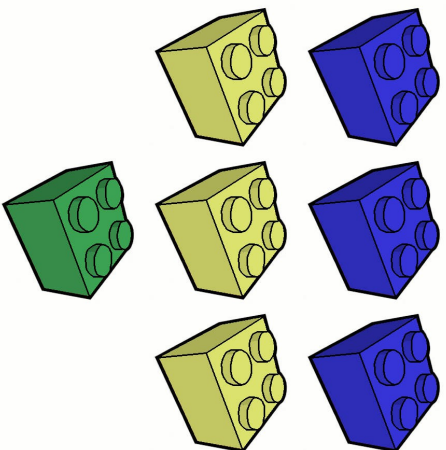
**Je hebt 7 legosteentjes. 3 zijn er rood.**

**Er zijn meer groene steentjes dan rode.**

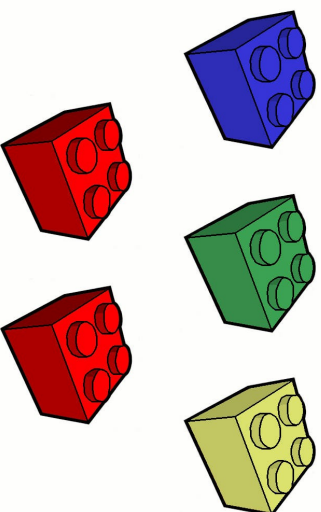
**Welke legosteentjes heb je?**



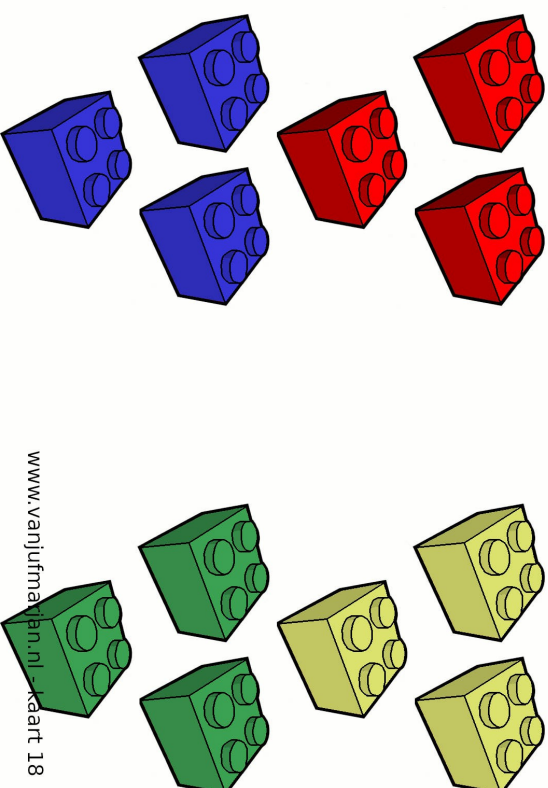
[www.vanjuufmarjan.nl](http://www.vanjuufmarjan.nl) - kaart 20



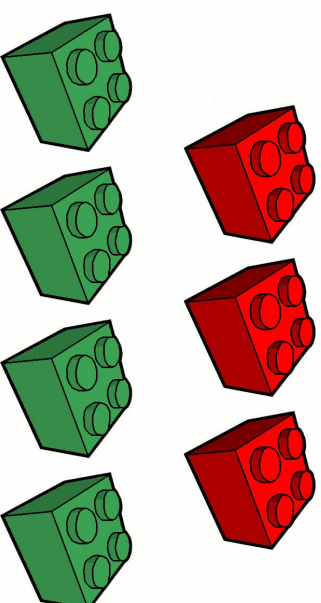
www.vanijufmarjan.nl - kaart 17



www.vanijufmarjan.nl - kaart 19



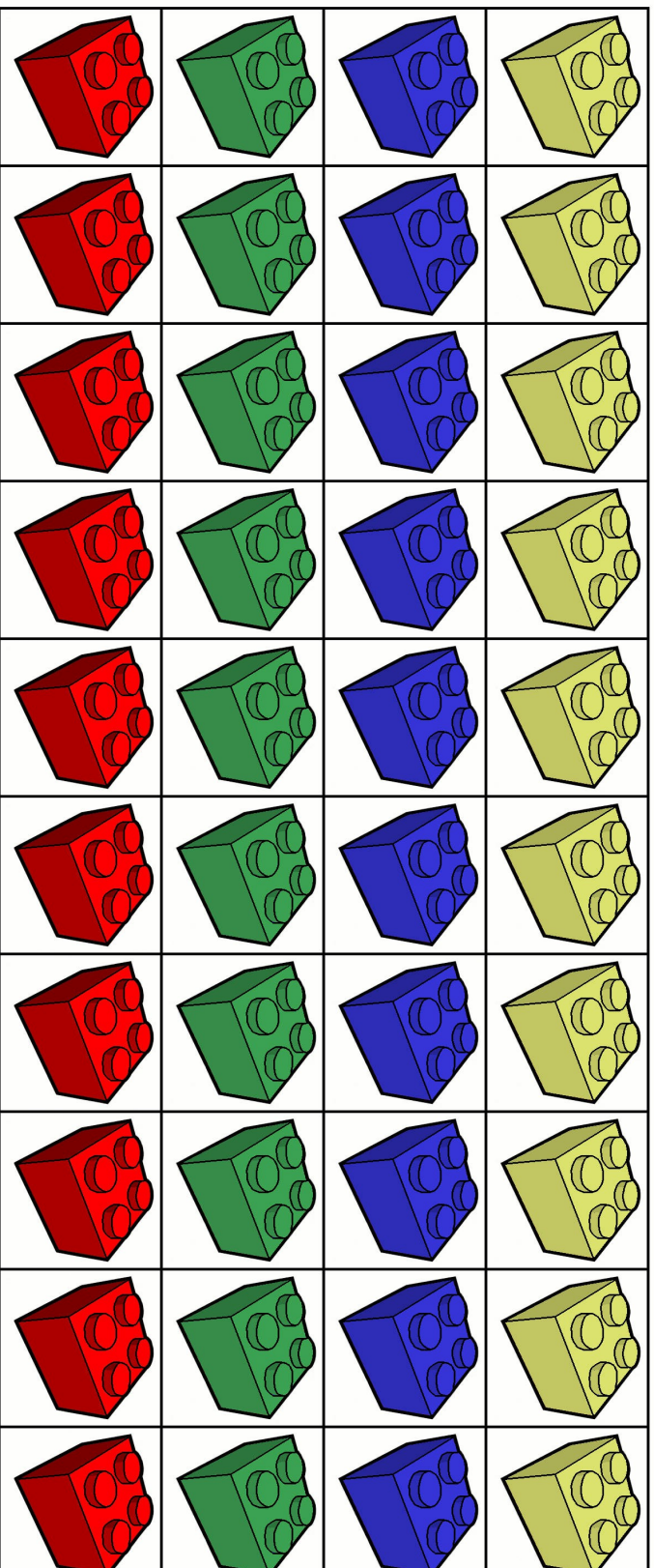
www.vanijufmarjan.nl - kaart 18



www.vanijufmarjan.nl - kaart 20

# Legosteentjes Teldetective.

Legosteentjes kaartjes.



**Knip deze legosteentjes kaartjes uit en lamineer ze als dat kan.  
Gebruik deze kaartjes als vervanging voor als er geen echte  
legosteentjes zijn.**